

主題 地球的問題を踏まえた国際協力  
 ねらい 日本が参加すべき地域共同体を探る。  
 教科書 18 ページ 1部 世界の諸地域の変と地球的問題  
 1章 地球儀や地図からとらえる現代世界 2節 グローバル化が進む世界

(1) 結びつきを強める現代世界

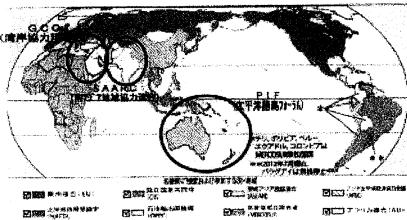
① 国と国の結びつきの変化

第二次世界大戦後

資本主義諸国 (西側陣営)	社会主義諸国 (東側陣営)
中心国 7国合衆国	中心国 光復民主主義共和国連邦
北大西洋条約機構 (NATO)	ワルシャワ条約機構 (WTO)

現在 (p19) 頁 223(脚)

ヨーロッパ	① 欧州連合 (EU) ② 欧州自由貿易協定 (EFTA)	フランス・ドイツ など 28 か国 16 ヲースイス など 4 か国
南北	③ 北米自由貿易協定 (NAFTA) ④ 中米統合機構 (SICA)	アメリカ・カナダ・メキシコ など 3 か国 アメリカ・ホンジュラス など 8 か国
	⑤ ② アジア共同体 (AECM) ⑥ 南米南部共同市場 (MERCOSUR) ⑦ 南米諸国連合 (UNASUR)	コロンビア・ペルー など 4 か国 ブラジル・チリ・パラグアイ など 6 か国と追加加盟国 6 か国 ウルグアイ・ペルー など 12 か国
アジア	⑧ 東南アジア諸国連合 (ASEAN) ⑨ ⑤ 清韓協力会議 (SAARC)	タイ・シンガポール など 10 か国 インド・パキスタン など 8 か国
	⑩ 清岸協力会議 (GCC)	カタール・アラブ首長国連邦 など 6 か国
アフリカ	⑪ アフリカ連合 (AU)	コート・ダボワール など 55 か国と西アフリカ・アフリカ民主共和国
オセアニア	⑫ 太平洋諸島フォーラム (PIF)	オーストラリア・ニュージーランド など 16 か国と仏領ポリネシア、ニュージーランド



グループ名 ( 東アジア協力機構 )  
 加盟国 ( 中国・韓国・日本 )

その国際関係を良好に保つ秘訣は何でしょうか?  
 Cooperation

三、国境を越え信頼と協力の関係を協力体制。

評価 ( A · B · C )

ふり返り  
 日本が参加すべき地域共同体を探ることができたか。( ⊙ · ○ · △ )

感想  
 協力の体制が大切だ。経済的なつながりがある。協力は関係がよくなる。秘訣は関係の発展に協力することだ。

評価 ( A · B · C )

主題 地球的問題を踏まえた国際協力  
 ねらい 日本が参加すべき地域共同体を探る。  
 教科書 18 ページ 1部 世界の諸地域の変と地球的問題  
 1章 地球儀や地図からとらえる現代世界 2節 グローバル化が進む世界

(1) 結びつきを強める現代世界

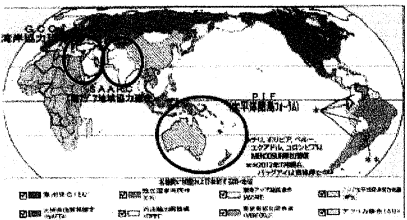
① 国と国の結びつきの変化

第二次世界大戦後

資本主義諸国 (西側陣営)	社会主義諸国 (東側陣営)
中心国 7国合衆国	中心国 光復民主主義共和国連邦
北大西洋条約機構 (NATO)	ワルシャワ条約機構 (WTO)

現在 (p19) 頁 223(脚)

ヨーロッパ	① 欧州連合 (EU) ② 欧州自由貿易協定 (EFTA)	フランス・ドイツ など 28 か国 16 ヲースイス など 4 か国
南北	③ 北米自由貿易協定 (NAFTA) ④ 中米統合機構 (SICA)	アメリカ・カナダ・メキシコ など 3 か国 アメリカ・ホンジュラス など 8 か国
	⑤ ② アジア共同体 (AECM) ⑥ 南米南部共同市場 (MERCOSUR) ⑦ 南米諸国連合 (UNASUR)	コロンビア・ペルー など 4 か国 ブラジル・チリ・パラグアイ など 6 か国と追加加盟国 6 か国 ウルグアイ・ペルー など 12 か国
アジア	⑧ 東南アジア諸国連合 (ASEAN) ⑨ ⑤ 清韓協力会議 (SAARC)	タイ・シンガポール など 10 か国 インド・パキスタン など 8 か国
	⑩ 清岸協力会議 (GCC)	カタール・アラブ首長国連邦 など 6 か国
アフリカ	⑪ アフリカ連合 (AU)	コート・ダボワール など 55 か国と西アフリカ・アフリカ民主共和国
オセアニア	⑫ 太平洋諸島フォーラム (PIF)	オーストラリア・ニュージーランド など 16 か国と仏領ポリネシア、ニュージーランド



グループ名 ( EAAAT )  
 加盟国 ( 中国・韓国 )

その国際関係を良好に保つ秘訣は何でしょうか?  
 Cooperation

三、国境を越え信頼と協力の関係を協力体制。

評価 ( A · B · C )

ふり返り  
 日本が参加すべき地域共同体を探ることができたか。( ⊙ · ○ · △ )

感想  
 協力の体制が大切だ。経済的なつながりがある。協力は関係がよくなる。秘訣は関係の発展に協力することだ。

評価 ( A · B · C )

主題 地球の問題を踏まえた国際協力  
 ねらい 日本が参加すべき地域共同体を探る。  
 教科書 18 ページ 1部 世界の諸地域の変と地球の問題  
 1章 地球儀や地図からとらえる現代世界 2節 グローバル化が進む世界

(1) 結びつきを強める現代世界

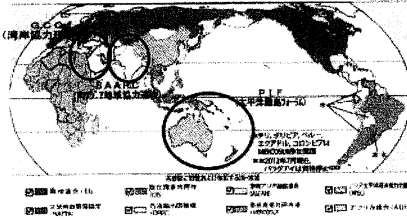
① 国と国の結びつきの変化

第二次世界大戦後

資本主義諸国 (西側陣営)	社会主義諸国 (東側陣営)
中心国 7国合衆国	中心国 光復民主主義共和国連邦
北大西洋条約機構 (NATO)	ワルシャワ条約機構 (WTO)

現在 (p19) 頁 223(脚)

ヨーロッパ	① 欧州連合 (EU) ② 欧州自由貿易協定 (EFTA)	フランス・ドイツ など 28 か国 16 ヲースイス など 4 か国
南北	③ 北米自由貿易協定 (NAFTA) ④ 中米統合機構 (SICA)	アメリカ・カナダ・メキシコ など 3 か国 アメリカ・ホンジュラス など 8 か国
	⑤ ② アジア共同体 (AECM) ⑥ 南米南部共同市場 (MERCOSUR) ⑦ 南米諸国連合 (UNASUR)	コロンビア・ペルー など 4 か国 ブラジル・チリ・パラグアイ など 6 か国と追加加盟国 6 か国 ウルグアイ・ペルー など 12 か国
アジア	⑧ 東南アジア諸国連合 (ASEAN) ⑨ ⑤ 清韓協力会議 (SAARC)	タイ・シンガポール など 10 か国 インド・パキスタン など 8 か国
	⑩ 清岸協力会議 (GCC)	カタール・アラブ首長国連邦 など 6 か国
アフリカ	⑪ アフリカ連合 (AU)	コート・ダボワール など 55 か国と西アフリカ・アフリカ民主共和国
オセアニア	⑫ 太平洋諸島フォーラム (PIF)	オーストラリア・ニュージーランド など 16 か国と仏領ポリネシア、ニュージーランド



グループ名 ( 自由貿易 )  
 加盟国 ( 日本・韓国・中国 )

その国際関係を良好に保つ秘訣は何でしょうか?  
 国際関係は一方の利益のためだけにつくれない。互いの利益を確保する必要がある。互いに協力し合うことが重要だ。

評価 ( A · B · C )

ふり返り  
 日本が参加すべき地域共同体を探ることができたか。( ⊙ · ○ · △ )

感想  
 協力の体制が大切だ。経済的なつながりがある。協力は関係がよくなる。秘訣は関係の発展に協力することだ。

評価 ( A · B · C )

主題 地球の問題を踏まえた国際協力  
 ねらい 日本が参加すべき地域共同体を探る。  
 教科書 18 ページ 1部 世界の諸地域の変と地球の問題  
 1章 地球儀や地図からとらえる現代世界 2節 グローバル化が進む世界

(1) 結びつきを強める現代世界

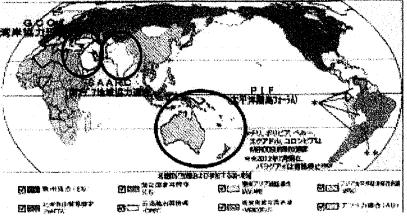
① 国と国の結びつきの変化

第二次世界大戦後

資本主義諸国 (西側陣営)	社会主義諸国 (東側陣営)
中心国 7国合衆国	中心国 光復民主主義共和国連邦
北大西洋条約機構 (NATO)	ワルシャワ条約機構 (WTO)

現在 (p19) 頁 223(脚)

ヨーロッパ	① 欧州連合 (EU) ② 欧州自由貿易協定 (EFTA)	フランス・ドイツ など 28 か国 16 ヲースイス など 4 か国
南北	③ 北米自由貿易協定 (NAFTA) ④ 中米統合機構 (SICA)	アメリカ・カナダ・メキシコ など 3 か国 アメリカ・ホンジュラス など 8 か国
	⑤ ② アジア共同体 (AECM) ⑥ 南米南部共同市場 (MERCOSUR) ⑦ 南米諸国連合 (UNASUR)	コロンビア・ペルー など 4 か国 ブラジル・チリ・パラグアイ など 6 か国と追加加盟国 6 か国 ウルグアイ・ペルー など 12 か国
アジア	⑧ 東南アジア諸国連合 (ASEAN) ⑨ ⑤ 清韓協力会議 (SAARC)	タイ・シンガポール など 10 か国 インド・パキスタン など 8 か国
	⑩ 清岸協力会議 (GCC)	カタール・アラブ首長国連邦 など 6 か国
アフリカ	⑪ アフリカ連合 (AU)	コート・ダボワール など 55 か国と西アフリカ・アフリカ民主共和国
オセアニア	⑫ 太平洋諸島フォーラム (PIF)	オーストラリア・ニュージーランド など 16 か国と仏領ポリネシア、ニュージーランド



グループ名 ( 自由貿易 )  
 加盟国 ( 日本・韓国・中国 )

その国際関係を良好に保つ秘訣は何でしょうか?  
 国際関係は一方の利益のためだけにつくれない。互いの利益を確保する必要がある。互いに協力し合うことが重要だ。

評価 ( A · B · C )

ふり返り  
 日本が参加すべき地域共同体を探ることができたか。( ⊙ · ○ · △ )

感想  
 協力の体制が大切だ。経済的なつながりがある。協力は関係がよくなる。秘訣は関係の発展に協力することだ。

評価 ( A · B · C )




地理総合ワークシート (教科書中間考査) No. ( )  
 ( ) 月 ( ) 日 ( ) )  
 4年 ( ) 組 番号 ( ) 氏名 ( )

主題 地球的問題を踏まえた国際協力  
 ねらい 日本が参加すべき地域共同体を探る。  
 教科書 18 ページ 1部 世界の諸地域の姿と地球的問題  
 1章 地球儀や地図からとらえる現代世界 2節 グローバル化が進む世界

(1) 結びつきを強める現代世界  
 ① 国と国の結びつきの変化  
 第二次世界大戦後

資本主義諸国 (西側陣営)	社会主義諸国 (東側陣営)
中心国 7ヶ国連合	中心国 光1社会主義共和国連邦
北大西洋条約機構 (NATO)	ワルシャワ条約機構 (WTO)
現在 (p19⑤) 資 223⑩	
ヨーロッパ	① 欧州連合 (EU) フランス・ドイツなど 28カ国 ② 欧州自由貿易協定 (EFTA) ノルウェー・スウェーデンなど 4カ国
南北	③ 北米自由貿易協定 (NAFTA) アメリカ・カナダ・メキシコなど 3カ国 ④ 中米統合機構 (SICA) グアテマラ・ホンジュラスなど 8カ国
	⑤ ⑦ アジア共同体 (AEC) コロンビア・ペルーなど 4カ国 ⑥ 南米南部共同市場 (MERCOSUR) ブラジル・パラグアイなど 6カ国と他加盟国 6カ国 ⑦ 南米諸国連合 (UNASUR) ブラジル・ペルー・チリ・コロンビア・エクアドルなど 12カ国
アジア	⑧ 東南アジア諸国連合 (ASEAN) マレーシアなど 10カ国 ⑨ 南アジア地域協力連合 (SAARC) インド・パキスタンなど 8カ国 ⑩ 湾岸協力会議 (GCC) サウジアラビア・カタール・アラブ首長国連邦など 6カ国
	⑪ アフリカ連合 (AU) エチオピア・南アフリカなど 55カ国と他加盟国 (19ヶ国) 民主共和国
オセアニア	⑫ 太平洋諸島フォーラム (PIF) トンガ・ニュージーランドなど 16カ国と他加盟国 12ヶ国、ニュージーランド

② 日本と〇〇の関係について  
 これから日本はどの国(地域)と地域共同体を  
 つくらばよいかを判断しなさい。



グループ名 ( ICU )  
 加盟国 ( 日本、インドネシア、マレーシア、フィリピン )  
 その国際関係を良好に保つ秘訣は何でしょうか?  
 問題解決のために同じ目標に向かって取り組むこと、明確な意思と定期的な良好な交流を行う  
 評価 ( A・B・C )

ふり回り  
 日本が参加すべき地域共同体を探ることができたか。 (◎・○・△)  
 感想 水、食、エネルギー、資源など世界のあらゆる国の問題と現状はかわらぬから、互いの結びつきを強めていこうと考えるべきだと感じた。

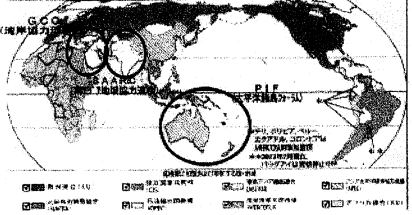
地理総合ワークシート (教科書中間考査) No. ( )  
 ( ) 月 ( ) 日 ( ) )  
 4年 ( ) 組 番号 ( ) 氏名 ( )

主題 地球の問題を踏まえた国際協力  
 ねらい 日本が参加すべき地域共同体を探る。  
 教科書 18 ページ 1部 世界の諸地域の姿と地球的問題  
 1章 地球儀や地図からとらえる現代世界 2節 グローバル化が進む世界

(1) 結びつきを強める現代世界  
 ① 国と国の結びつきの変化  
 第二次世界大戦後

資本主義諸国 (西側陣営)	社会主義諸国 (東側陣営)
中心国 7ヶ国連合	中心国 光1社会主義共和国連邦
北大西洋条約機構 (NATO)	ワルシャワ条約機構 (WTO)
現在 (p19⑤) 資 223⑩	
ヨーロッパ	① 欧州連合 (EU) フランス・ドイツなど 28カ国 ② 欧州自由貿易協定 (EFTA) ノルウェー・スウェーデンなど 4カ国
南北	③ 北米自由貿易協定 (NAFTA) アメリカ・カナダ・メキシコなど 3カ国 ④ 中米統合機構 (SICA) グアテマラ・ホンジュラスなど 8カ国
	⑤ ⑦ アジア共同体 (AEC) コロンビア・ペルーなど 4カ国 ⑥ 南米南部共同市場 (MERCOSUR) ブラジル・パラグアイなど 6カ国と他加盟国 6カ国 ⑦ 南米諸国連合 (UNASUR) ブラジル・ペルー・チリ・コロンビア・エクアドルなど 12カ国
アジア	⑧ 東南アジア諸国連合 (ASEAN) マレーシアなど 10カ国 ⑨ 南アジア地域協力連合 (SAARC) インド・パキスタンなど 8カ国 ⑩ 湾岸協力会議 (GCC) サウジアラビア・カタール・アラブ首長国連邦など 6カ国
	⑪ アフリカ連合 (AU) エチオピア・南アフリカなど 55カ国と他加盟国 (19ヶ国) 民主共和国
オセアニア	⑫ 太平洋諸島フォーラム (PIF) トンガ・ニュージーランドなど 16カ国と他加盟国 12ヶ国、ニュージーランド

② 日本と〇〇の関係について  
 これから日本はどの国(地域)と地域共同体を  
 つくらばよいかを判断しなさい。



グループ名 ( 島国連合 )  
 加盟国 ( 日本、フィリピン、スリランカ、インドネシア、台湾、トンガ )  
 その国際関係を良好に保つ秘訣は何でしょうか?  
 共に協力して、困った時は助け合おう、長期間目標に問題解決に取り組んで行く。  
 評価 ( A・B・C )

ふり回り  
 日本が参加すべき地域共同体を探ることができたか。 (◎・○・△)  
 感想 日本が所属する地域共同体を作ることは? 問題解決、そして互いに協力して欲しいと思ふ。

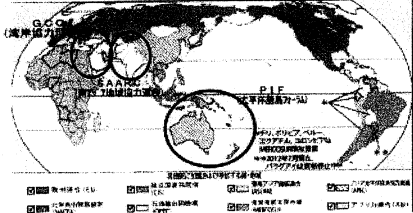
地理総合ワークシート (教科書中間考査) No. ( )  
 ( ) 月 ( ) 日 ( ) )  
 4年 ( ) 組 番号 ( ) 氏名 ( )

主題 地球の問題を踏まえた国際協力  
 ねらい 日本が参加すべき地域共同体を探る。  
 教科書 18 ページ 1部 世界の諸地域の姿と地球的問題  
 1章 地球儀や地図からとらえる現代世界 2節 グローバル化が進む世界

(1) 結びつきを強める現代世界  
 ① 国と国の結びつきの変化  
 第二次世界大戦後

資本主義諸国 (西側陣営)	社会主義諸国 (東側陣営)
中心国 7ヶ国連合	中心国 光1社会主義共和国連邦
北大西洋条約機構 (NATO)	ワルシャワ条約機構 (WTO)
現在 (p19⑤) 資 223⑩	
ヨーロッパ	① 欧州連合 (EU) フランス・ドイツなど 28カ国 ② 欧州自由貿易協定 (EFTA) ノルウェー・スウェーデンなど 4カ国
南北	③ 北米自由貿易協定 (NAFTA) アメリカ・カナダ・メキシコなど 3カ国 ④ 中米統合機構 (SICA) グアテマラ・ホンジュラスなど 8カ国
	⑤ ⑦ アジア共同体 (AEC) コロンビア・ペルーなど 4カ国 ⑥ 南米南部共同市場 (MERCOSUR) ブラジル・パラグアイなど 6カ国と他加盟国 6カ国 ⑦ 南米諸国連合 (UNASUR) ブラジル・ペルー・チリ・コロンビア・エクアドルなど 12カ国
アジア	⑧ 東南アジア諸国連合 (ASEAN) マレーシアなど 10カ国 ⑨ 南アジア地域協力連合 (SAARC) インド・パキスタンなど 8カ国 ⑩ 湾岸協力会議 (GCC) サウジアラビア・カタール・アラブ首長国連邦など 6カ国
	⑪ アフリカ連合 (AU) エチオピア・南アフリカなど 55カ国と他加盟国 (19ヶ国) 民主共和国
オセアニア	⑫ 太平洋諸島フォーラム (PIF) トンガ・ニュージーランドなど 16カ国と他加盟国 12ヶ国、ニュージーランド

② 日本と〇〇の関係について  
 これから日本はどの国(地域)と地域共同体を  
 つくらばよいかを判断しなさい。



グループ名 ( EAC )  
 加盟国 ( 中国、日本、韓国、北朝鮮、台湾、ロシア )  
 その国際関係を良好に保つ秘訣は何でしょうか?  
 アフリカの関係を弱くして、中東との結びつきを強くする。過去の遺恨を払う。  
 評価 ( A・B・C )

ふり回り  
 日本が参加すべき地域共同体を探ることができたか。 (◎・○・△)  
 感想 「地域共同体」という大前提を見失いそうに感じた。 熟悉度が低かった。

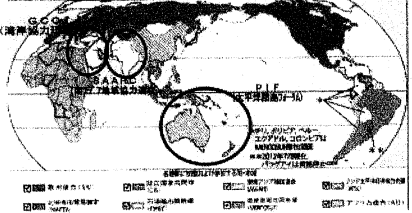
地理総合ワークシート (教科書中間考査) No. ( )  
 ( ) 月 ( ) 日 ( ) )  
 4年 ( ) 組 番号 ( ) 氏名 ( )

主題 地球の問題を踏まえた国際協力  
 ねらい 日本が参加すべき地域共同体を探る。  
 教科書 18 ページ 1部 世界の諸地域の姿と地球的問題  
 1章 地球儀や地図からとらえる現代世界 2節 グローバル化が進む世界

(1) 結びつきを強める現代世界  
 ① 国と国の結びつきの変化  
 第二次世界大戦後

資本主義諸国 (西側陣営)	社会主義諸国 (東側陣営)
中心国 7ヶ国連合	中心国 光1社会主義共和国連邦
北大西洋条約機構 (NATO)	ワルシャワ条約機構 (WTO)
現在 (p19⑤) 資 223⑩	
ヨーロッパ	① 欧州連合 (EU) フランス・ドイツなど 28カ国 ② 欧州自由貿易協定 (EFTA) ノルウェー・スウェーデンなど 4カ国
南北	③ 北米自由貿易協定 (NAFTA) アメリカ・カナダ・メキシコなど 3カ国 ④ 中米統合機構 (SICA) グアテマラ・ホンジュラスなど 8カ国
	⑤ ⑦ アジア共同体 (AEC) コロンビア・ペルーなど 4カ国 ⑥ 南米南部共同市場 (MERCOSUR) ブラジル・パラグアイなど 6カ国と他加盟国 6カ国 ⑦ 南米諸国連合 (UNASUR) ブラジル・ペルー・チリ・コロンビア・エクアドルなど 12カ国
アジア	⑧ 東南アジア諸国連合 (ASEAN) マレーシアなど 10カ国 ⑨ 南アジア地域協力連合 (SAARC) インド・パキスタンなど 8カ国 ⑩ 湾岸協力会議 (GCC) サウジアラビア・カタール・アラブ首長国連邦など 6カ国
	⑪ アフリカ連合 (AU) エチオピア・南アフリカなど 55カ国と他加盟国 (19ヶ国) 民主共和国
オセアニア	⑫ 太平洋諸島フォーラム (PIF) トンガ・ニュージーランドなど 16カ国と他加盟国 12ヶ国、ニュージーランド

② 日本と〇〇の関係について  
 これから日本はどの国(地域)と地域共同体を  
 つくらばよいかを判断しなさい。



グループ名 ( アジア地域共同体 )  
 加盟国 ( 日本、中国、韓国、北朝鮮、台湾、ロシア、インド )  
 その国際関係を良好に保つ秘訣は何でしょうか?  
 加盟国の問題を解決して、相互にメリットがある。経済的に長期契約でも、互いに北朝鮮と対峙し、受け入れる。共通点がある。加盟国同士は仲良くする。  
 評価 ( A・B・C )

ふり回り  
 日本が参加すべき地域共同体を探ることができたか。 (◎・○・△)  
 感想 互いの問題を解決して、互いにメリットがある。経済的に長期契約でも、互いに北朝鮮と対峙し、受け入れる。共通点がある。加盟国同士は仲良くする。





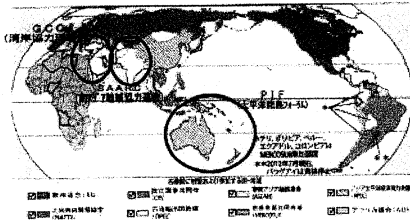
地理総合ワークシート (秋学期中間考査) No. ( )  
( ) 月 ( ) 日 ( )  
4年 ( ) 組 番号 ( ) 氏名 ( )

主 題 地球的問題を踏まえた国際協力  
ねらい 日本が参加すべき地域共同体を探る。  
教科書 18 ページ 1部 世界の諸地域の姿と地球的問題  
1章 地球儀や地図からとらえる現代世界 2節 グローバル化が進む世界

(1) 結びつきを強める現代世界  
① 国と国の結びつきの変化  
第二次世界大戦後

現在 (p195) 頁 223(9)	資本主義諸国 (西側陣営)	社会主義諸国 (東側陣営)
	中心国 7カ国連合	中心国 尤リ社会主義共和国連邦
	北大西洋条約機構 (NATO)	ワルシャワ条約機構 (WTO)
ヨーロッパ	① 欧州連合 (EU) ② 欧州自由貿易協定 (EFTA)	ワシントン・イタリヤなど 28カ国 16カ国・スイスなど 4カ国
南北	③ 北米自由貿易協定 (NAFTA)	アメリカ・カナダ・メキシコなど 3カ国
	④ 中米統合機構 (SICA)	グアテマラ・ホンジュラスなど 8カ国
アジア	⑤ ANZCUS 共同体 (ANZCUM)	オーストラリア・ニュージーランドなど 4カ国
	⑥ 南米南部共同市場 (MERCOSUR)	ブラジル・パラグアイなど 6カ国と 追加加盟国 6カ国
アフリカ	⑦ 南米諸国連合 (UNASUR)	ブラジル・チリ・ペルー・コロンビア・ウルグアイなど 12カ国
	⑧ 東南アジア諸国連合 (ASEAN)	タイ・フィリピンなど 10カ国
オセアニア	⑨ 南アジア地域協力連合 (SAARC)	インド・パキスタンなど 8カ国
	⑩ 湾岸協力会議 (GCC)	カタール・アラブ首長国連邦など 6カ国
オセアニア	⑪ ANZCUS 連合 (ANZCUM)	オーストラリア・ニュージーランドなど 55カ国と 西側の (オセアニア) 民主共和国
オセアニア	⑫ 太平洋諸島フォーラム (PIF)	オーストラリア・ニュージーランドなど 16カ 国と仏領ポリネシア、ニュージーランド

② 日本と〇〇の関係について  
これから日本はどの国(地域)と地域共同体を  
つくればよいか判断しなさい。



グループ名 ( JAC )  
加盟国 ( 日本、中国、韓国 )  
その国際関係を良好に保つ秘訣は何でしょうか?  
人際関係 → 理解  
互いの国と理解 → 話し合う  
評価 ( A・B・C )  
ふり返り  
日本が参加すべき地域共同体を探ることができたか。 (◎・○・△)  
感想  
アジアの国々を結ぶことで、地域共同体は、  
作られるのではないか。日本もアジア  
の国々と一緒に参加したい。

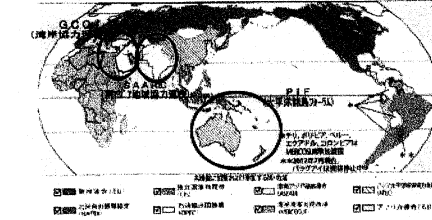
地理総合ワークシート (秋学期中間考査) No. ( )  
( ) 月 ( ) 日 ( )  
4年 ( ) 組 番号 ( ) 氏名 ( )

主 題 地球の問題を踏まえた国際協力  
ねらい 日本が参加すべき地域共同体を探る。  
教科書 18 ページ 1部 世界の諸地域の姿と地球的問題  
1章 地球儀や地図からとらえる現代世界 2節 グローバル化が進む世界

(1) 結びつきを強める現代世界  
① 国と国の結びつきの変化  
第二次世界大戦後

現在 (p195) 頁 223(9)	資本主義諸国 (西側陣営)	社会主義諸国 (東側陣営)
	中心国 7カ国連合	中心国 尤リ社会主義共和国連邦
	北大西洋条約機構 (NATO)	ワルシャワ条約機構 (WTO)
ヨーロッパ	① 欧州連合 (EU) ② 欧州自由貿易協定 (EFTA)	ワシントン・イタリヤなど 28カ国 16カ国・スイスなど 4カ国
南北	③ 北米自由貿易協定 (NAFTA)	アメリカ・カナダ・メキシコなど 3カ国
	④ 中米統合機構 (SICA)	グアテマラ・ホンジュラスなど 8カ国
アジア	⑤ ANZCUS 共同体 (ANZCUM)	オーストラリア・ニュージーランドなど 4カ国
	⑥ 南米南部共同市場 (MERCOSUR)	ブラジル・パラグアイなど 6カ国と 追加加盟国 6カ国
アフリカ	⑦ 南米諸国連合 (UNASUR)	ブラジル・チリ・ペルー・コロンビア・ウルグアイなど 12カ国
	⑧ 東南アジア諸国連合 (ASEAN)	タイ・フィリピンなど 10カ国
オセアニア	⑨ 南アジア地域協力連合 (SAARC)	インド・パキスタンなど 8カ国
	⑩ 湾岸協力会議 (GCC)	カタール・アラブ首長国連邦など 6カ国
アフリカ	⑪ ANZCUS 連合 (ANZCUM)	オーストラリア・ニュージーランドなど 55カ国と 西側の (オセアニア) 民主共和国
オセアニア	⑫ 太平洋諸島フォーラム (PIF)	オーストラリア・ニュージーランドなど 16カ 国と仏領ポリネシア、ニュージーランド

② 日本と〇〇の関係について  
これから日本はどの国(地域)と地域共同体を  
つくればよいか判断しなさい。



グループ名 ( )  
加盟国 ( 日本、中国、韓国、ASEAN地域の発展国 )  
その国際関係を良好に保つ秘訣は何でしょうか?  
先達国が持つ技術の共有・交流  
評価 ( A・B・C )  
ふり返り  
日本が参加すべき地域共同体を探ることができたか。 (◎・○・△)  
感想  
ASEAN 加盟国を代表する、様々な世界事情がある  
なかで、アジア地域に向ける日本の立ち位置  
他国との関係は、深遠なものであり、

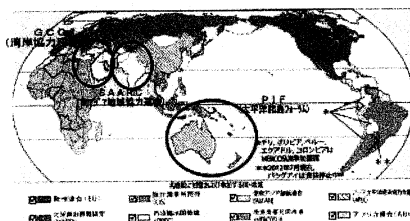
地理総合ワークシート (秋学期中間考査) No. ( )  
( ) 月 ( ) 日 ( )  
4年 ( ) 組 番号 ( ) 氏名 ( )

主 題 地球の問題を踏まえた国際協力  
ねらい 日本が参加すべき地域共同体を探る。  
教科書 18 ページ 1部 世界の諸地域の姿と地球的問題  
1章 地球儀や地図からとらえる現代世界 2節 グローバル化が進む世界

(1) 結びつきを強める現代世界  
① 国と国の結びつきの変化  
第二次世界大戦後

現在 (p195) 頁 223(9)	資本主義諸国 (西側陣営)	社会主義諸国 (東側陣営)
	中心国 7カ国連合	中心国 尤リ社会主義共和国連邦
	北大西洋条約機構 (NATO)	ワルシャワ条約機構 (WTO)
ヨーロッパ	① 欧州連合 (EU) ② 欧州自由貿易協定 (EFTA)	ワシントン・イタリヤなど 28カ国 16カ国・スイスなど 4カ国
南北	③ 北米自由貿易協定 (NAFTA)	アメリカ・カナダ・メキシコなど 3カ国
	④ 中米統合機構 (SICA)	グアテマラ・ホンジュラスなど 8カ国
アジア	⑤ ANZCUS 共同体 (ANZCUM)	オーストラリア・ニュージーランドなど 4カ国
	⑥ 南米南部共同市場 (MERCOSUR)	ブラジル・パラグアイなど 6カ国と 追加加盟国 6カ国
アフリカ	⑦ 南米諸国連合 (UNASUR)	ブラジル・チリ・ペルー・コロンビア・ウルグアイなど 12カ国
	⑧ 東南アジア諸国連合 (ASEAN)	タイ・フィリピンなど 10カ国
オセアニア	⑨ 南アジア地域協力連合 (SAARC)	インド・パキスタンなど 8カ国
	⑩ 湾岸協力会議 (GCC)	カタール・アラブ首長国連邦など 6カ国
アフリカ	⑪ ANZCUS 連合 (ANZCUM)	オーストラリア・ニュージーランドなど 55カ国と 西側の (オセアニア) 民主共和国
オセアニア	⑫ 太平洋諸島フォーラム (PIF)	オーストラリア・ニュージーランドなど 16カ 国と仏領ポリネシア、ニュージーランド

② 日本と〇〇の関係について  
これから日本はどの国(地域)と地域共同体を  
つくればよいか判断しなさい。



グループ名 ( ASEANCA )  
加盟国 ( 日本、中国、インドネシア、シンガポール )  
その国際関係を良好に保つ秘訣は何でしょうか?  
日本はアジア圏に在り、同国の影響を受け、開かれ、  
このことが大事だと感じる。日本は、ASEANの中心に  
立つべきだと感じる。ASEANの中心に立つべきだと  
感じる。ASEANの中心に立つべきだと感じる。  
評価 ( A・B・C )  
ふり返り  
日本が参加すべき地域共同体を探ることができたか。 (◎・○・△)  
感想  
日本とASEANの共同市場は、入ることで、  
作ることで、国境を越えることで、他の国境  
の長所と短所を知ることができると感じる。


地理総合ワークシート (秋学期中間考査) No. ( )  
( ) 月 ( ) 日 ( )  
4年 ( ) 組 番号 ( ) 氏名 ( )

主 題 地球の問題を踏まえた国際協力  
ねらい 日本が参加すべき地域共同体を探る。  
教科書 18 ページ 1部 世界の諸地域の姿と地球的問題  
1章 地球儀や地図からとらえる現代世界 2節 グローバル化が進む世界

(1) 結びつきを強める現代世界  
① 国と国の結びつきの変化  
第二次世界大戦後

現在 (p195) 頁 223(9)	資本主義諸国 (西側陣営)	社会主義諸国 (東側陣営)
	中心国 7カ国連合	中心国 尤リ社会主義共和国連邦
	北大西洋条約機構 (NATO)	ワルシャワ条約機構 (WTO)
ヨーロッパ	① 欧州連合 (EU) ② 欧州自由貿易協定 (EFTA)	ワシントン・イタリヤなど 28カ国 16カ国・スイスなど 4カ国
南北	③ 北米自由貿易協定 (NAFTA)	アメリカ・カナダ・メキシコなど 3カ国
	④ 中米統合機構 (SICA)	グアテマラ・ホンジュラスなど 8カ国
アジア	⑤ ANZCUS 共同体 (ANZCUM)	オーストラリア・ニュージーランドなど 4カ国
	⑥ 南米南部共同市場 (MERCOSUR)	ブラジル・パラグアイなど 6カ国と 追加加盟国 6カ国
アフリカ	⑦ 南米諸国連合 (UNASUR)	ブラジル・チリ・ペルー・コロンビア・ウルグアイなど 12カ国
	⑧ 東南アジア諸国連合 (ASEAN)	タイ・フィリピンなど 10カ国
オセアニア	⑨ 南アジア地域協力連合 (SAARC)	インド・パキスタンなど 8カ国
	⑩ 湾岸協力会議 (GCC)	カタール・アラブ首長国連邦など 6カ国
アフリカ	⑪ ANZCUS 連合 (ANZCUM)	オーストラリア・ニュージーランドなど 55カ国と 西側の (オセアニア) 民主共和国
オセアニア	⑫ 太平洋諸島フォーラム (PIF)	オーストラリア・ニュージーランドなど 16カ 国と仏領ポリネシア、ニュージーランド

② 日本と〇〇の関係について  
これから日本はどの国(地域)と地域共同体を  
つくればよいか判断しなさい。



グループ名 ( ASEANCA )  
加盟国 ( 日本、中国、インド、シンガポール )  
その国際関係を良好に保つ秘訣は何でしょうか?  
近しい国同士、ASEANの国境を越えて、  
相互に、何の必要もない、意見交換し合うこと  
が大切だと感じる。  
評価 ( A・B・C )  
ふり返り  
日本が参加すべき地域共同体を探ることができたか。 (◎・○・△)  
感想  
日本がASEANの中心に立つことで、  
ASEANの中心に立つことで、  
ASEANの中心に立つことで、

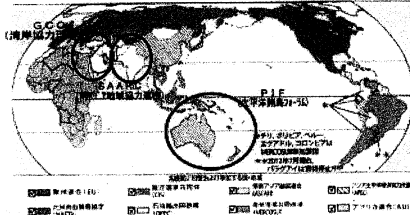
地理総合ワークシート ( 学期中間考査 ) № ( )  
 ( 月 日 )  
 4年 ( ) 組 番号 ( ) 氏名 ( )

主 題 地球的問題を踏まえた国際協力  
 ねらい 日本が参加すべき地域共同体を探る。  
 教科書 18 ページ 1 部 世界の諸地域の姿と地球的問題  
 1 章 地球儀や地図からとらえる現代世界 2 節 グローバル化が進む世界

(1) 結びつきを強める現代世界  
 ① 国と国の結びつきの変化  
 第二次世界大戦後

現在 (p195 資 223(10))	資本主義諸国 (西側陣営)	社会主義諸国 (東側陣営)
① 欧州連合 (EU)	フランス、ドイツなど 28 か国	
② 欧州自由貿易協定 (EFTA)	ノルウェー、スウェーデンなど 4 か国	
③ 北米自由貿易協定 (NAFTA)	アメリカ、カナダ、メキシコなど 3 か国	
④ 中米統合機構 (SICA)	グアテマラ、ホンジュラスなど 8 か国	
⑤ 中米地域共同体 (ANCOM)	コロンビア、ペルーなど 4 か国	
⑥ 南米南部共同市場 (MERCOSUR)	ブラジル、アルゼンチンなど 6 か国と 他加盟国 6 か国	
⑦ 南米諸国連合 (UNASUR)	ブラジル、アルゼンチン、ペルー、 コロンビア、エクアドルなど 12 か国	
⑧ 東南アジア諸国連合 (ASEAN)	タイ、インドネシアなど 10 か国	
⑨ 南アジア地域協力連合 (SAARC)	インド、パキスタンなど 8 か国	
⑩ 南太平洋協力会議 (COPAC)	フィジー、ニュージーランド、 オーストラリア、チリ、南米諸国連邦 など 6 か国	
⑪ アフリカ連合 (AU)	エチオピア、南アフリカなど 55 か国と 西アフリカ (ECOWAS) 15 か国と 東アフリカ (EAC) 10 か国など 76 か国	
⑫ 太平洋諸島フォーラム (PIF)	フィジー、ニュージーランド、 オーストラリア、チリ、南米諸国連邦 など 16 か国と他加盟 10 か国、ニュージーランド	

② 日本と〇〇の関係について  
 これから日本はどの国 (地域) と地域共同体を  
 つくればよいかを判断しなさい。



グループ名 ( E E A N Energy Easten Asia Netow )  
 加盟国 ( 日、韓国、オーストラリア、ニュージーランド )

その国際関係を良好に保つ秘訣は何でしょうか?  
 長期的で、定期的に定例会を開いて関係を維持。  
 お互いの国にとって良い影響が出るようにする。  
 その関係を保つために協力を。

評価 ( A - B - C )

ふり返り  
 日本が参加すべき地域共同体を探ることができたか。 (◎・○・△)

感想  
 地域を同じくする国同士は、互いに地理的に  
 近いからではない。世界の諸問題  
 (エネルギー問題や水問題) によって考え  
 つつ、互いに良好な関係を保つことが  
 重要になってくる。

A - B - C


地理総合ワークシート ( 学期中間考査 ) № ( )  
 ( 月 日 )  
 4年 ( ) 組 番号 ( ) 氏名 ( )

主 題 地球の問題を踏まえた国際協力  
 ねらい 日本が参加すべき地域共同体を探る。  
 教科書 18 ページ 1 部 世界の諸地域の姿と地球的問題  
 1 章 地球儀や地図からとらえる現代世界 2 節 グローバル化が進む世界

(1) 結びつきを強める現代世界  
 ① 国と国の結びつきの変化  
 第二次世界大戦後

現在 (p195 資 223(10))	資本主義諸国 (西側陣営)	社会主義諸国 (東側陣営)
① 欧州連合 (EU)	フランス、ドイツなど 28 か国	
② 欧州自由貿易協定 (EFTA)	ノルウェー、スウェーデンなど 4 か国	
③ 北米自由貿易協定 (NAFTA)	アメリカ、カナダ、メキシコなど 3 か国	
④ 中米統合機構 (SICA)	グアテマラ、ホンジュラスなど 8 か国	
⑤ 中米地域共同体 (ANCOM)	コロンビア、ペルーなど 4 か国	
⑥ 南米南部共同市場 (MERCOSUR)	ブラジル、アルゼンチンなど 6 か国と 他加盟国 6 か国	
⑦ 南米諸国連合 (UNASUR)	ブラジル、アルゼンチン、ペルー、 コロンビア、エクアドルなど 12 か国	
⑧ 東南アジア諸国連合 (ASEAN)	タイ、インドネシアなど 10 か国	
⑨ 南アジア地域協力連合 (SAARC)	インド、パキスタンなど 8 か国	
⑩ 南太平洋協力会議 (COPAC)	フィジー、ニュージーランド、 オーストラリア、チリ、南米諸国連邦 など 6 か国	
⑪ アフリカ連合 (AU)	エチオピア、南アフリカなど 55 か国と 西アフリカ (ECOWAS) 15 か国と 東アフリカ (EAC) 10 か国など 76 か国	
⑫ 太平洋諸島フォーラム (PIF)	フィジー、ニュージーランド、 オーストラリア、チリ、南米諸国連邦 など 16 か国と他加盟 10 か国、ニュージーランド	

② 日本と〇〇の関係について  
 これから日本はどの国 (地域) と地域共同体を  
 つくればよいかを判断しなさい。



グループ名 ( E N )  
 加盟国 ( 日本、オーストラリア、韓国 )

その国際関係を良好に保つ秘訣は何でしょうか?  
 長期契約 と 互いの理解  
 エネルギー資源と食料と環境とを互いに理解し合う。  
 長期にわたることで、安定性を高める。

評価 ( A - B - C )

ふり返り  
 日本が参加すべき地域共同体を探ることができたか。 (◎・○・△)

感想  
 10、資源、食料、エネルギー ない  
 色んな視点から国と国を結びつけることで  
 安定性について考えなければならぬ。

A - B - C

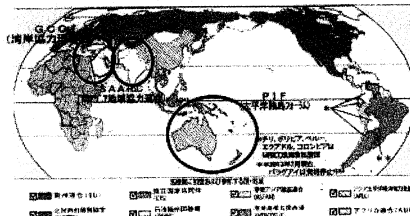
地理総合ワークシート ( 学期中間考査 ) № ( )  
 ( 月 日 )  
 4年 ( ) 組 番号 ( ) 氏名 ( )

主 題 地球の問題を踏まえた国際協力  
 ねらい 日本が参加すべき地域共同体を探る。  
 教科書 18 ページ 1 部 世界の諸地域の姿と地球的問題  
 1 章 地球儀や地図からとらえる現代世界 2 節 グローバル化が進む世界

(1) 結びつきを強める現代世界  
 ① 国と国の結びつきの変化  
 第二次世界大戦後

現在 (p195 資 223(10))	資本主義諸国 (西側陣営)	社会主義諸国 (東側陣営)
① 欧州連合 (EU)	フランス、ドイツなど 28 か国	
② 欧州自由貿易協定 (EFTA)	ノルウェー、スウェーデンなど 4 か国	
③ 北米自由貿易協定 (NAFTA)	アメリカ、カナダ、メキシコなど 3 か国	
④ 中米統合機構 (SICA)	グアテマラ、ホンジュラスなど 8 か国	
⑤ 中米地域共同体 (ANCOM)	コロンビア、ペルーなど 4 か国	
⑥ 南米南部共同市場 (MERCOSUR)	ブラジル、アルゼンチンなど 6 か国と 他加盟国 6 か国	
⑦ 南米諸国連合 (UNASUR)	ブラジル、アルゼンチン、ペルー、 コロンビア、エクアドルなど 12 か国	
⑧ 東南アジア諸国連合 (ASEAN)	タイ、インドネシアなど 10 か国	
⑨ 南アジア地域協力連合 (SAARC)	インド、パキスタンなど 8 か国	
⑩ 南太平洋協力会議 (COPAC)	フィジー、ニュージーランド、 オーストラリア、チリ、南米諸国連邦 など 6 か国	
⑪ アフリカ連合 (AU)	エチオピア、南アフリカなど 55 か国と 西アフリカ (ECOWAS) 15 か国と 東アフリカ (EAC) 10 か国など 76 か国	
⑫ 太平洋諸島フォーラム (PIF)	フィジー、ニュージーランド、 オーストラリア、チリ、南米諸国連邦 など 16 か国と他加盟 10 か国、ニュージーランド	

② 日本と〇〇の関係について  
 これから日本はどの国 (地域) と地域共同体を  
 つくればよいかを判断しなさい。



グループ名 ( W E F O )  
 加盟国 ( 日本、EU、中国、オーストラリア、韓国 )

その国際関係を良好に保つ秘訣は何でしょうか?  
 上記の資源と貿易と国、国を結びつけることで  
 互いに利益を得る。温暖化の防止は各国の協力を必要とする。  
 互いに利益を得ることで関係を維持する。

評価 ( A - B - C )

ふり返り  
 日本が参加すべき地域共同体を探ることができたか。 (◎・○・△)

感想  
 どの地域共同体に加入すべきかではなく  
 地域全体、次世代のために考え、相互に  
 利益を得ることで関係を維持する。  
 互いに利益を得ることで関係を維持する。

A - B - C

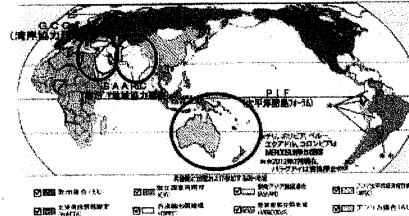
地理総合ワークシート ( 学期中間考査 ) № ( )  
 ( 月 日 )  
 4年 ( ) 組 番号 ( ) 氏名 ( )

主 題 地球の問題を踏まえた国際協力  
 ねらい 日本が参加すべき地域共同体を探る。  
 教科書 18 ページ 1 部 世界の諸地域の姿と地球的問題  
 1 章 地球儀や地図からとらえる現代世界 2 節 グローバル化が進む世界

(1) 結びつきを強める現代世界  
 ① 国と国の結びつきの変化  
 第二次世界大戦後

現在 (p195 資 223(10))	資本主義諸国 (西側陣営)	社会主義諸国 (東側陣営)
① 欧州連合 (EU)	フランス、ドイツなど 28 か国	
② 欧州自由貿易協定 (EFTA)	ノルウェー、スウェーデンなど 4 か国	
③ 北米自由貿易協定 (NAFTA)	アメリカ、カナダ、メキシコなど 3 か国	
④ 中米統合機構 (SICA)	グアテマラ、ホンジュラスなど 8 か国	
⑤ 中米地域共同体 (ANCOM)	コロンビア、ペルーなど 4 か国	
⑥ 南米南部共同市場 (MERCOSUR)	ブラジル、アルゼンチンなど 6 か国と 他加盟国 6 か国	
⑦ 南米諸国連合 (UNASUR)	ブラジル、アルゼンチン、ペルー、 コロンビア、エクアドルなど 12 か国	
⑧ 東南アジア諸国連合 (ASEAN)	タイ、インドネシアなど 10 か国	
⑨ 南アジア地域協力連合 (SAARC)	インド、パキスタンなど 8 か国	
⑩ 南太平洋協力会議 (COPAC)	フィジー、ニュージーランド、 オーストラリア、チリ、南米諸国連邦 など 6 か国	
⑪ アフリカ連合 (AU)	エチオピア、南アフリカなど 55 か国と 西アフリカ (ECOWAS) 15 か国と 東アフリカ (EAC) 10 か国など 76 か国	
⑫ 太平洋諸島フォーラム (PIF)	フィジー、ニュージーランド、 オーストラリア、チリ、南米諸国連邦 など 16 か国と他加盟 10 か国、ニュージーランド	

② 日本と〇〇の関係について  
 これから日本はどの国 (地域) と地域共同体を  
 つくればよいかを判断しなさい。



グループ名 ( W E F O )  
 加盟国 ( 日本、EU、中国、オーストラリア、韓国 )

その国際関係を良好に保つ秘訣は何でしょうか?  
 最初の約束と決断とをしっかりと  
 守ることが大切。

評価 ( A - B - C )

ふり返り  
 日本が参加すべき地域共同体を探ることができたか。 (◎・○・△)

感想  
 日本の国が参加する共同体は  
 1つだが、日本が共同して何らか  
 たのめが自分たち自身で決  
 めるべき。

A - B - C



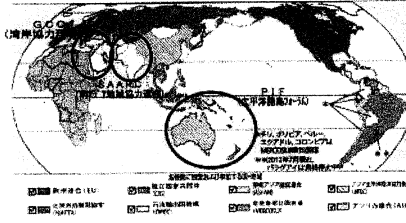
地理総合ワークシート (秋学期中間考査) № ( )  
 ( ) 月 ( ) 日 ( ) )  
 4年 ( ) 組 番号 ( ) 氏名 ( )

主題 地球的問題を踏まえた国際協力  
 ねらい 日本が参加すべき地域共同体を探る。  
 教科書 18 ページ 1部 世界の諸地域の姿と地球的問題  
 1章 地球儀や地図からとらえる現代世界 2節 グローバル化が進む世界

(1) 結びつきを強める現代世界  
 ① 国と国の結びつきの変化  
 第二次世界大戦後

現在 (p195) 資 223(10)	資本主義諸国 (西側陣営)	社会主義諸国 (東側陣営)
	中心国 7ヶ国連合	中心国 光 社会主義共和国連邦
	北大西洋条約機構 (NATO)	ワルシャワ条約機構 (WTO)
ヨーロッパ	① 欧州連合 (EU) 欧州自由貿易協定 (EFTA)	フランス、イギリスなど 28 か国 ノルウェー、スイスなど 4 か国
南北	② 北米自由貿易協定 (NAFTA) 中米統合機構 (SICA)	アメリカ、カナダ、メキシコなど 3 か国 グアテマラ、ホンジュラスなど 8 か国
アジア	③ ASEAN 共同体 (ANCOM) ④ 南米南部共同市場 (MERCOSUR) 南米諸国連合 (UNASUR)	インドネシア、シンガポールなど 4 か国 ブラジル、チリ、コロンビアなど 6 か国と追加加盟国 6 か国 ペルー、チリ、メキシコ、コロンビア、エクアドルなど 12 か国
アフリカ	⑤ ASEAN 7ヶ国連合 (ASEAN) ⑥ 南アジア地域協力連合 (SAARC) ⑦ 南アジア協力会議 (SACU)	マレーシアなど 10 か国 インド、パキスタンなど 8 か国 インド、パキスタン、スリランカ、バングラデシュ、ミャンマー、ネパール、ブータン、モルディブなど 8 か国
オセアニア	⑧ APT 連合 (AU) ⑨ 太平洋諸島フォーラム (PIF)	オーストラリア、ニュージーランドなど 56 か国と西太平洋 (APWC) 民主共和国連邦 (DPR) など 16 か国と仏領ポリネシア、ニュージーランド

② 日本と〇〇の関係について  
 これから日本はどの国 (地域) と地域共同体を  
 つくらばよいか判断しなさい。



グループ名 (環太平洋経済連携機構) )  
 加盟国 (日本、米、韓、豪、印、加、チリ)  
 その国際関係を良好に保つ秘訣は何でしょうか?  
 ・ 日米の利害を因りながら、長期目標  
 ・ 減税と自由貿易  
 ・ 撤退禁止  
 評価 (A・B・C) A・B・C  
 ふり返り  
 日本が参加すべき地域共同体を探ることができたか。(◎・○・△)  
 感想 地球共同体を築く時、様々な国と協力して、互恵互利的な関係を築くことが大切だ。多岐な国と協力して、互恵互利的な関係を築くことが大切だ。  
 今後の目標は、互恵互利的な関係を築くことだ。互恵互利的な関係を築くことだ。


地理総合ワークシート (秋学期中間考査) № ( )  
 ( ) 月 ( ) 日 ( ) )  
 4年 ( ) 組 番号 ( ) 氏名 ( )

主題 地球的問題を踏まえた国際協力  
 ねらい 日本が参加すべき地域共同体を探る。  
 教科書 18 ページ 1部 世界の諸地域の姿と地球的問題  
 1章 地球儀や地図からとらえる現代世界 2節 グローバル化が進む世界

(1) 結びつきを強める現代世界  
 ① 国と国の結びつきの変化  
 第二次世界大戦後

現在 (p195) 資 223(10)	資本主義諸国 (西側陣営)	社会主義諸国 (東側陣営)
	中心国 7ヶ国連合	中心国 光 社会主義共和国連邦
	北大西洋条約機構 (NATO)	ワルシャワ条約機構 (WTO)
ヨーロッパ	① 欧州連合 (EU) 欧州自由貿易協定 (EFTA)	フランス、イギリスなど 28 か国 ノルウェー、スイスなど 4 か国
南北	② 北米自由貿易協定 (NAFTA) 中米統合機構 (SICA)	アメリカ、カナダ、メキシコなど 3 か国 グアテマラ、ホンジュラスなど 8 か国
アジア	③ ASEAN 共同体 (ANCOM) ④ 南米南部共同市場 (MERCOSUR) 南米諸国連合 (UNASUR)	インドネシア、シンガポールなど 4 か国 ブラジル、チリ、コロンビアなど 6 か国と追加加盟国 6 か国 ペルー、チリ、メキシコ、コロンビア、エクアドルなど 12 か国
アフリカ	⑤ ASEAN 7ヶ国連合 (ASEAN) ⑥ 南アジア地域協力連合 (SAARC) ⑦ 南アジア協力会議 (SACU)	マレーシアなど 10 か国 インド、パキスタンなど 8 か国 インド、パキスタン、スリランカ、バングラデシュ、ミャンマー、ネパール、ブータン、モルディブなど 8 か国
オセアニア	⑧ APT 連合 (AU) ⑨ 太平洋諸島フォーラム (PIF)	オーストラリア、ニュージーランドなど 56 か国と西太平洋 (APWC) 民主共和国連邦 (DPR) など 16 か国と仏領ポリネシア、ニュージーランド

② 日本と〇〇の関係について  
 これから日本はどの国 (地域) と地域共同体を  
 つくらばよいか判断しなさい。



グループ名 (環太平洋経済連携機構) )  
 加盟国 (日本、米、韓、豪、印、加、チリ)  
 その国際関係を良好に保つ秘訣は何でしょうか?  
 ・ 日米の利害を因りながら、長期目標  
 ・ 減税と自由貿易  
 ・ 撤退禁止  
 評価 (A・B・C) A・B・C  
 ふり返り  
 日本が参加すべき地域共同体を探ることができたか。(◎・○・△)  
 感想 地球共同体を築く時、様々な国と協力して、互恵互利的な関係を築くことが大切だ。多岐な国と協力して、互恵互利的な関係を築くことが大切だ。  
 今後の目標は、互恵互利的な関係を築くことだ。互恵互利的な関係を築くことだ。


地理総合ワークシート (秋学期中間考査) № ( )  
 ( ) 月 ( ) 日 ( ) )  
 4年 ( ) 組 番号 ( ) 氏名 ( )

主題 地球の問題を踏まえた国際協力  
 ねらい 日本が参加すべき地域共同体を探る。  
 教科書 18 ページ 1部 世界の諸地域の姿と地球的問題  
 1章 地球儀や地図からとらえる現代世界 2節 グローバル化が進む世界

(1) 結びつきを強める現代世界  
 ① 国と国の結びつきの変化  
 第二次世界大戦後

現在 (p195) 資 223(10)	資本主義諸国 (西側陣営)	社会主義諸国 (東側陣営)
	中心国 7ヶ国連合	中心国 光 社会主義共和国連邦
	北大西洋条約機構 (NATO)	ワルシャワ条約機構 (WTO)
ヨーロッパ	① 欧州連合 (EU) 欧州自由貿易協定 (EFTA)	フランス、イギリスなど 28 か国 ノルウェー、スイスなど 4 か国
南北	② 北米自由貿易協定 (NAFTA) 中米統合機構 (SICA)	アメリカ、カナダ、メキシコなど 3 か国 グアテマラ、ホンジュラスなど 8 か国
アジア	③ ASEAN 共同体 (ANCOM) ④ 南米南部共同市場 (MERCOSUR) 南米諸国連合 (UNASUR)	インドネシア、シンガポールなど 4 か国 ブラジル、チリ、コロンビアなど 6 か国と追加加盟国 6 か国 ペルー、チリ、メキシコ、コロンビア、エクアドルなど 12 か国
アフリカ	⑤ ASEAN 7ヶ国連合 (ASEAN) ⑥ 南アジア地域協力連合 (SAARC) ⑦ 南アジア協力会議 (SACU)	マレーシアなど 10 か国 インド、パキスタンなど 8 か国 インド、パキスタン、スリランカ、バングラデシュ、ミャンマー、ネパール、ブータン、モルディブなど 8 か国
オセアニア	⑧ APT 連合 (AU) ⑨ 太平洋諸島フォーラム (PIF)	オーストラリア、ニュージーランドなど 56 か国と西太平洋 (APWC) 民主共和国連邦 (DPR) など 16 か国と仏領ポリネシア、ニュージーランド

② 日本と〇〇の関係について  
 これから日本はどの国 (地域) と地域共同体を  
 つくらばよいか判断しなさい。



グループ名 (TPCC Trans-Pacific Cooperation Nation)  
 加盟国 (日本、アメリカ、中国、韓国)  
 その国際関係を良好に保つ秘訣は何でしょうか?  
 お金を用いて Give and Take の関係を築く  
 評価 (A・B・C) A・B・C  
 ふり返り  
 日本が参加すべき地域共同体を探ることができたか。(◎・○・△)  
 感想 今回の地球共同体を考えたが、難しいのは現実的に共同体を築くことだ。難しいのは現実的に共同体を築くことだ。  
 今後の目標は、現実的に共同体を築くことだ。現実的に共同体を築くことだ。

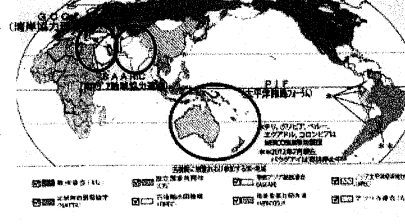
地理総合ワークシート (秋学期中間考査) № ( )  
 ( ) 月 ( ) 日 ( ) )  
 4年 ( ) 組 番号 ( ) 氏名 ( )

主題 地球の問題を踏まえた国際協力  
 ねらい 日本が参加すべき地域共同体を探る。  
 教科書 18 ページ 1部 世界の諸地域の姿と地球的問題  
 1章 地球儀や地図からとらえる現代世界 2節 グローバル化が進む世界

(1) 結びつきを強める現代世界  
 ① 国と国の結びつきの変化  
 第二次世界大戦後

現在 (p195) 資 223(10)	資本主義諸国 (西側陣営)	社会主義諸国 (東側陣営)
	中心国 7ヶ国連合	中心国 光 社会主義共和国連邦
	北大西洋条約機構 (NATO)	ワルシャワ条約機構 (WTO)
ヨーロッパ	① 欧州連合 (EU) 欧州自由貿易協定 (EFTA)	フランス、イギリスなど 28 か国 ノルウェー、スイスなど 4 か国
南北	② 北米自由貿易協定 (NAFTA) 中米統合機構 (SICA)	アメリカ、カナダ、メキシコなど 3 か国 グアテマラ、ホンジュラスなど 8 か国
アジア	③ ASEAN 共同体 (ANCOM) ④ 南米南部共同市場 (MERCOSUR) 南米諸国連合 (UNASUR)	インドネシア、シンガポールなど 4 か国 ブラジル、チリ、コロンビアなど 6 か国と追加加盟国 6 か国 ペルー、チリ、メキシコ、コロンビア、エクアドルなど 12 か国
アフリカ	⑤ ASEAN 7ヶ国連合 (ASEAN) ⑥ 南アジア地域協力連合 (SAARC) ⑦ 南アジア協力会議 (SACU)	マレーシアなど 10 か国 インド、パキスタンなど 8 か国 インド、パキスタン、スリランカ、バングラデシュ、ミャンマー、ネパール、ブータン、モルディブなど 8 か国
オセアニア	⑧ APT 連合 (AU) ⑨ 太平洋諸島フォーラム (PIF)	オーストラリア、ニュージーランドなど 56 か国と西太平洋 (APWC) 民主共和国連邦 (DPR) など 16 か国と仏領ポリネシア、ニュージーランド

② 日本と〇〇の関係について  
 これから日本はどの国 (地域) と地域共同体を  
 つくらばよいか判断しなさい。



グループ名 (TPCC Trans-Pacific Cooperation Nation)  
 加盟国 (日本、アメリカ、中国、韓国)  
 その国際関係を良好に保つ秘訣は何でしょうか?  
 ・ お金を用いて Give and Take の関係を築く  
 ・ 互恵互利的な関係を築く  
 ・ 撤退禁止  
 評価 (A・B・C) A・B・C  
 ふり返り  
 日本が参加すべき地域共同体を探ることができたか。(◎・○・△)  
 感想 今回の地球共同体を考えたが、難しいのは現実的に共同体を築くことだ。難しいのは現実的に共同体を築くことだ。  
 今後の目標は、現実的に共同体を築くことだ。現実的に共同体を築くことだ。



主題	地球的問題を踏まえた国際協力
ねらい	日本が参加すべき地域共同体を探る。
教科書	18 ページ 1 節 世界の諸地域の姿と地球的問題
	1 章 地球儀や地図からとらえる現代世界 2 節 グローバル化が進む世界

(1) 結びつきを強める現代世界

① 国と国の結びつきの変化

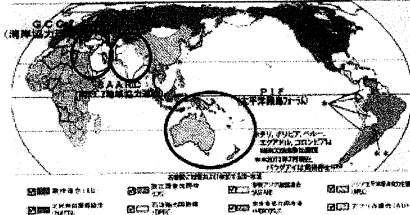
第二次世界大戦後

資本主義諸国 (西側陣営)	社会主義諸国 (東側陣営)
中心国 7 国合衆国	中心国 尤も社会主義共和国連邦
北大西洋条約機構 (NATO)	ワルシャワ条約機構 (WTO)

現在 (p195) 頁 223(10)

ヨーロッパ	① 欧州連合 (EU) 欧州自由貿易協定 (EFTA)	ワルシャワ条約機構など 28 か国 160 ユーロ圏など 4 か国
南北	② 北米自由貿易協定 (NAFTA)	アメリカ・カナダなど 3 か国
	③ 中米統合機構 (SICA)	グアテマラ・ホンジュラスなど 8 か国
	④ アジア共同体 (AEC)	インドネシアなど 4 か国
アジア	⑤ 南米南部共同市場 (MERCOSUR)	アルゼンチン・ブラジルなど 6 か国と 追加加盟国 6 か国
	⑥ 南米諸国連合 (UNASUR)	ウルグワイなど 12 か国
	⑦ 東南アジア諸国連合 (ASEAN)	シンガポールなど 10 か国
アジア	⑧ 清アジア地域協力連合 (SAARC)	インド・パキスタンなど 8 か国
	⑨ 清アジア地域協力会議 (GCC)	カタール・アラブ首長国連邦 など 6 か国
	⑩ アフリカ連合 (AU)	エチオピア・南アフリカなど 55 か国と 西アフリカ (ECOWAS) 民主共和国
オセアニア	⑪ 太平洋諸島フォーラム (PIF)	フィジー・ニュージーランドなど 16 か 国と仏領ポリネシア、ニュージー

② 日本と〇〇の関係について  
 これから日本はどの国(地域)と地域共同体を  
 つくらばよいか判断しなさい。



グループ名 ( アジア地域協力機構  
 加盟国 ( 日本, 中国, 韓国, シンガポール, 香港 ) )

その国際関係を良好に保つ秘訣は何でしょうか?  
 加盟国全てが平等に貿易し対等な経済になる  
 経済的自立が必要

評価 ( A - B - C )

ふり返り	日本が参加すべき地域共同体を探ることができたか。 (◎・○・△)
感想	AUやEUNなど日本もアジア地域に属する 国と協力してが、国と協力しては ない。EUに加入しては全加盟国が 対等に貿易して対等な関係が保た れる。

主題	地球の問題を踏まえた国際協力
ねらい	日本が参加すべき地域共同体を探る。
教科書	18 ページ 1 節 世界の諸地域の姿と地球的問題
	1 章 地球儀や地図からとらえる現代世界 2 節 グローバル化が進む世界

(1) 結びつきを強める現代世界

① 国と国の結びつきの変化

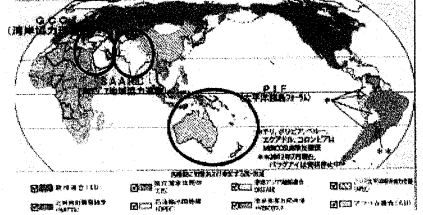
第二次世界大戦後

資本主義諸国 (西側陣営)	社会主義諸国 (東側陣営)
中心国 7 国合衆国	中心国 尤も社会主義共和国連邦
北大西洋条約機構 (NATO)	ワルシャワ条約機構 (WTO)

現在 (p195) 頁 223(10)

ヨーロッパ	① 欧州連合 (EU) 欧州自由貿易協定 (EFTA)	ワルシャワ条約機構など 28 か国 160 ユーロ圏など 4 か国
南北	② 北米自由貿易協定 (NAFTA)	アメリカ・カナダなど 3 か国
	③ 中米統合機構 (SICA)	グアテマラ・ホンジュラスなど 8 か国
	④ アジア共同体 (AEC)	インドネシアなど 4 か国
アジア	⑤ 南米南部共同市場 (MERCOSUR)	アルゼンチン・ブラジルなど 6 か国と 追加加盟国 6 か国
	⑥ 南米諸国連合 (UNASUR)	ウルグワイなど 12 か国
	⑦ 東南アジア諸国連合 (ASEAN)	シンガポールなど 10 か国
アジア	⑧ 清アジア地域協力連合 (SAARC)	インド・パキスタンなど 8 か国
	⑨ 清アジア地域協力会議 (GCC)	カタール・アラブ首長国連邦 など 6 か国
	⑩ アフリカ連合 (AU)	エチオピア・南アフリカなど 55 か国と 西アフリカ (ECOWAS) 民主共和国
オセアニア	⑪ 太平洋諸島フォーラム (PIF)	フィジー・ニュージーランドなど 16 か 国と仏領ポリネシア、ニュージー

② 日本と〇〇の関係について  
 これから日本はどの国(地域)と地域共同体を  
 つくらばよいか判断しなさい。



グループ名 ( アジア地域協力機構  
 Organization )  
 加盟国 ( 日本, 中国, 韓国, 韓国, シンガポール, 香港 ) )

その国際関係を良好に保つ秘訣は何でしょうか?  
 加盟国全てが平等に貿易し対等な経済になる  
 経済的自立が必要

評価 ( A - B - C )

ふり返り	日本が参加すべき地域共同体を探ることができたか。 (◎・○・△)
感想	AUやEUNなど日本もアジア地域に属する 国と協力しては、他国と協力しては ない。EUに加入しては全加盟国が 対等に貿易して対等な関係が保た れる。